



PEMERINTAH KABUPATEN KEDIRI
DINAS PENDIDIKAN
UPTD SMP NEGERI 2 TAROKAN
PENILAIAN AKHIR SEMESTER GASAL
TAHUN PELAJARAN 2021 / 2022

PETUNJUK UMUM

1. Periksalah Naskah Soal yang Anda terima sebelum mengerjakan soal yang meliputi :
 - a. Kelengkapan jumlah halaman dan urutannya.
 - b. Kelengkapan nomor soal dan urutannya.
 - c. Kesesuaian Mata Pelajaran yang di ujikan dengan Mata Pelajaran yang tertera pada Naskah maupun Lembar Jawab.
 - d. Jumlah soal setiap mapel 45 soal, terdiri PG 15 soal, PGK 5 soal, BS 10 soal, menjodohkan 10 soal, Uraian 5 Soal kecuali IPA dan MATEMATIKA 35 soal, terdiri PG 5 soal, PGK 5 soal, BS 10 soal, menjodohkan 10 soal, Uraian 5 soal.
2. Laporkan Kepada pegawai ruang apabila terdapat naskah soal yang tidak lengkap, tidak urut, Lembar Jawaban yang rusak dan minta gantinya!
3. Gunakan pensil 2B untuk mengisi lembar jawaban dengan ketentuan sebagai berikut :
 - a. Tuliskan Nama Anda pada kolom yang disediakan.
 - b. Tuliskan Nomor Peserta Penilaian Akhir Semester Gasal pada kolom yang disediakan!
 - c. Tuliskan Kelas / No. Presensi, pada kolom yang disediakan!
 - d. Tulislah paket soal pada lembar jawaban sesuai paket soal!
4. Jika terjadi kesalahan dalam memberi tanda silang (x) atau centang (✓), hapus sebersih mungkin dengan karet penghapus kemudian diganti yang menurut anda benar.
5. Saat mengikuti ulangan dilarang membawa dan menggunakan HP, Kalkulator, Tabel, maupun alat bantu hitung lainnya.
6. Periksa kembali pekerjaan Anda sebelum diserahkan pengawas ujian!
7. Lembar Jawaban tidak boleh dicorat – coret.
8. Berdo'alah sebelum mengerjakan soal!
9. Kerjakan dengan jujur, karena kejujuran adalah cermin akhlaq mulia!
10. Gunakan waktu yang terjadwal dengan sebaik-baiknya agar diperoleh hasil yang maksimal!

SELAMAT MENGERJAKAN SEMOGA SUKSES



PEMERINTAH KABUPATEN KEDIRI
DINAS PENDIDIKAN
UPTD SMP NEGERI
PENILAIAN AKHIR SEMESTER GASAL
TAHUN PELAJARAN 2021/2022

Mata Pelajaran : IPS
Kelas/Semester : IX / 1

Hari, Tanggal : Jum'at, 10 Desember 2021
Waktu : 90 menit

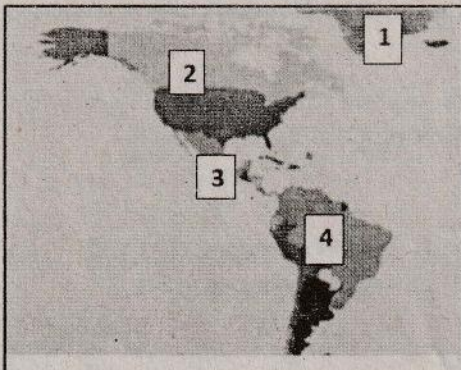
I. Pilihlah salah satu jawaban yang paling benar !

1. Perhatikan dan amati secara cermat peta dibawah ini!



Berdasarkan peta diatas batas-batas benua Asia yang ditunjukkan oleh angka secara berurutan mulai angka 1 sampai 5 adalah

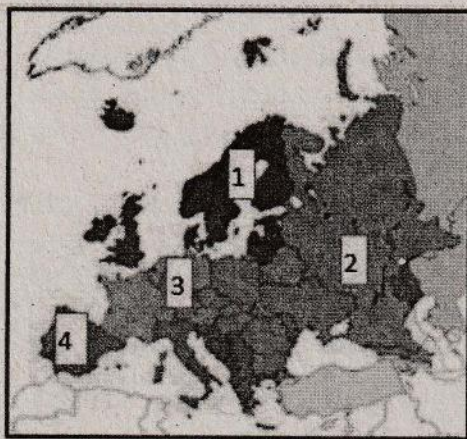
- A. 1) Samudera Pasifik, 2) Samudera Hindia, 3) Peg. Ural, 4) Samudera Artik, 5) Selat Bering
B. 1) Laut Merah, Peg. Ural, 2) Samudera artik, 3) Selat Bering, 4) Samudera Pasifik, 5) Samudera Hindia
C. 1) Samudera Hindia, 2) Samudera Pasifik, 3) Selat bering, 4) Peg Ural, 5) Samudera Artik
D. 1) Samudera Artik, 2) Selat Bering, 3) Samudera Pasifik, 4) Samudera Hindia, 5) Peg. Ural
2. Perhatikan dan cermati peta benua Amerika berikut ini!



Pembagian wilayah benua Amerika yang ditunjukkan oleh angka secara berurutan adalah...

- A. Amerika Utara, Amerika Tengah, Amerika Selatan, Tanjung Harapan
B. Greenland, Amerika Utara, Amerika Tengah, Amerika Selatan
C. Artik, Amerika Utara, Amerika Tengah, Amerika Selatan.
D. Karibia, Amerika tengah, Amerika Utara, Amerika Selatan

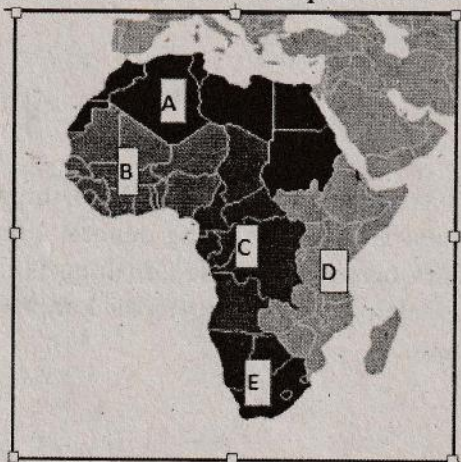
3. Perhatikan dan cermati peta benua Eropa di bawah ini!



Pembagian wilayah di benua Eropa secara berurutan ditunjukkan oleh angka 1 – 4 adalah sebagai berikut:

- A. 1)Eropa Timur, 2)Eropa Barat, 3)Eropa Selatan, 4) Eropa Utara
- B. 1)Eropa Selatan, 2)Eropa Barat, 3)Eropa Timur, 4)Eropa Timur
- C. 1)Eropa Utara, 2)Eropa Selatan, 3)Eropa Timur, 4)Eropa Barat
- D. 1)Eropa Utara, 2)Eropa Timur, 3)Eropa Barat, 4)Eropa Selatan

4. Perhatikan dan cermati peta benua Afrika berikut ini!



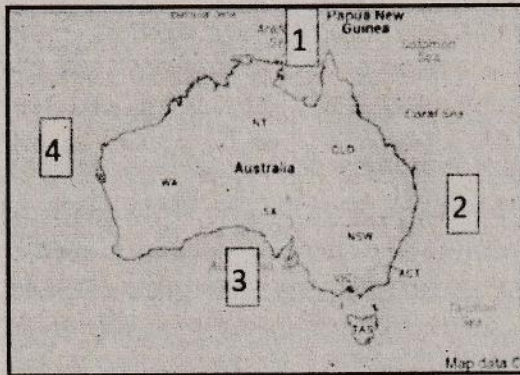
Pembagian wilayah di benua Afrika secara berurutan ditunjukkan oleh huruf A – E adalah sebagai berikut:

- A. A)Afrika Tengah, B)Afrika Timur, C)Afrika Selatan, D)Afrika Utara, E)Afrika Barat,
- B. A)Afrika Utara, B)Afrika Barat, C)Afrika Tengah, D)Afrika Timur, E)Afrika Selatan
- C. A)Afrika Barat, B)Afrika Tengah, C)Afrika Timur, D)Afrika Selatan, E)Afrika Utara
- D. A)Afrika Timur, B)Afrika Selatan, C)Afrika Utara, D)Afrika Barat, E)Afrika Tengah

5. Kondisi alam Negara Jepang memiliki sumberdaya alam yang jumlahnya sangat terbatas, sebagian tanahnya kurang subur (sebelum ada sentuhan teknologi) sehingga tidak dapat diandalkan untuk dapat mencukupi kebutuhan hidup penduduknya. Sumberdaya mineral yang sangat terbatas menyebabkan Jepang sangat tergantung pada bahan mentah dan bahan bakar hasil impor dari Negara lain. Keterbatasan ini menyebabkan Jepang menggerakkan perekonomiannya di bidang....

- A. Pertanian, peternakan dan perkebunan
- B. Kehutanan, perkebunan dan perdagangan
- C. Perindustrian, perdagangan dan perikanan laut
- D. Perikanan, peternakan dan pariwisata

6. Perhatikan dan cermati peta di bawah ini!



Batas-batas Negara Australia yang diberi kode angka 1, 2, 3, 4 secara berurutan adalah...

- A. Papua Nugini, samudera Hindia, samudera Pasifik, samudera Atlantik
 - B. Samudera Atlantik, samudera Hindia, samudera Pasifik, Laut Timor dan laut Arafuru.
 - C. Laut Timor dan laut Arafuru, samudera Pasifik, samudera Hindia, samudera Hindia
 - D. Samudera Hindia, samudera Pasifik, Papua Nugini, samudera Atlantik
7. Secara astronomis iklim di dunia dibagi menjadi 4 yaitu tropis, sub tropis, sedang dan dingin. Benua Amerika memiliki letak astronomis pada 830 LU – 550 LS dan 1700 BT – 350 BB. Berdasarkan letak lintang antara 830 LU – 550 LS, maka benua Amerika memiliki iklim sebagai berikut:
- A. Tropis, sub tropis, sedang dan dingin
 - B. Sub tropis, sedang, dingin dan gurun
 - C. Gurun, kontinental, dingin dan tropis
 - D. Sedang, tropis, laut dan gurun
8. Negara Inggris secara astronomis terletak pada 50° LU-60° LU dan 8° BB-2° BT. Dilihat dari garis lintangnya berada pada belahan bumi utara, dan memiliki iklim sedang dengan 4 musim (semi, panas, gugur, dingin). Apabila anda menginginkan berwisata ke Negara Inggris dalam kondisi nyaman dan hangat maka pada musim panas adalah pilihan yang tepat, karena pada saat itu peredaran matahari semu berada pada belahan bumi....
- A. Utara
 - B. Selatan
 - C. Barat
 - D. Timur.
9. Dengan maraknya konversi lahan dan terbentuknya kota-kota baru di Asia memicu terjadinya perpindahan penduduk dari desa ke kota. Yang merupakan faktor penarik mereka melakukan adalah ...
- A. banyaknya peluang kerja dan kesempatan berusaha di kota-kota Asia
 - B. terbentuknya gurun dan intrusi atau masuknya air laut ke daratan
 - C. sering terjadi konflik dan pertentangan antar desa-desa di Asia
 - D. tingkat kriminalitas di perkotaan relatif lebih rendah dari pada di desa
10. Perubahan sosial budaya terus berlangsung di masyarakat. Sikap terbaik selaku anggota masyarakat untuk mendukung perubahan tersebut adalah ...
- A. menyukai perubahan karena positif untuk diri sendiri
 - B. memprotes perubahan sosial karena dampak berdampak negatif bagi orang lain
 - C. peduli dan mau membantu kelompok masyarakat yang mengalami kesulitan dan kesusahan akibat perubahan sosial budaya
 - D. membiarkan perubahan sosial budaya berjalan dengan sendirinya

11. Dewasa ini, semakin marak adanya perubahan mode pakaian terutama anak-anak remaja. Perubahan ini pengaruhnya kecil dengan ruang lingkup yang tidak luas karena ...
- semua masyarakat selalu mendukung perubahan tersebut
 - hanya diikuti olehh sekelompok kecil masyarakat
 - di dukung sepenuhnya oleh pemerintah
 - waktu perubahannya jangka panjang
12. Ketika Indonesia dijajah oleh Jepang banyak terjadi perubahan sosial budaya dalam masyarakat Indonesia. Yang merupakan contoh perubahan di bidang budaya yaitu ...
- kemiskinan dan kelaparan terjadi di berbagai daerah
 - sumber daya dan hasil -hasil pertanian di bawa untuk kepentingan perang jepang
 - bahasa indonesia berkembang luas
 - para tokoh pejuang kemerdekaan dilibatkan dalam beragam organisasi buatan jepang
13. Internet merupakan suatu jaringan yang mampu menghubungkan satu perangkat komputer dengan perangkat komputer lain diseluruh dunia. Internet diciptakan di Amerika Serikat pada tahun 1970 dan berhasil mengubah cara manusia di seluruh dunia dalam melakukan kegiatan komunikasi dan perdagangan. Dapat dikatakan bahwa perubahan sosial pada masyarakat Indonesia akibat keberadaan internet disebabkan oleh.
- terjadinya pertambahan populasi manusia
 - adanya kebutuhan bersaing dengan masyarakat lain
 - munculnya penemuan penemuan baru dalam masyarakat
 - keinginan masyarakat melestarikan budaya
14. Perhatikan pernyataan di bawah ini!
- Menjaga keutuhan NKRI
 - Melakukan demonstrasi anarkis
 - Mencintai produk dalam negeri
 - Memupuk budaya hedonisme

Upaya menghadapi globalisasi untuk memperkokoh kehidupan bangsa Indonesia ditunjukkan dengan nomor

- 1 dan 2
- 1 dan 3
- 2 dan 3
- 3 dan 4

15. Perhatikan tabel berikut!

1	2	3	4
- Penemuan Baru - Konflik - Bertambah dan berkurangnya penduduk penduduk	- Penemuan baru - Peperangan - Perubahan lingkungan alam	- Peperangan - Konflik - Bertambah dan berkurangnya penduduk penduduk	- Terjadinya Revolusi - Peperangan - Pengaruh budaya masyarakat lain

Faktor intern pendorong terjadinya perubahan sosial budaya terdapat pada kolom

- 1
- 2
- 3
- 4

II. Untuk soal no 16 sampai dengan 20 pilihlah 2 jawaban yang paling benar !

Bacalah wacana tentang benua Asia dibawah ini dengan teliti dan cermat untuk menjawab soal no. 16 dan 17!

Asia merupakan benua terluas di dunia, dengan luas wilayah 44,579,000 km persegi. Karena luasnya wilayah ini secara geografis membawa pengaruh yang berbeda terhadap iklim, antara wilayah satu dengan lainnya. Asia Utara beriklim kontinental kutub, terutama wilayah Siberia Utara, Asia Tengah beriklim kontinental kering, terutama Gurun Gobi, Asia Barat beriklim darat atau gurun, terutama Jazirah Arab, Asia Selatan dan Tenggara beriklim tropis basah, Jepang dan Semenanjung Korea beriklim Sub Tropis. Kondisi iklim ini juga berdampak pada persebaran penduduk yang tidak merata.


Berdasarkan data *World Population Data Sheet* (WPDS), pada tahun 2005 jumlah penduduk Asia mencapai 3.921.000.000 jiwa. Jumlah tersebut bertambah menjadi 4.397.000.000 pada tahun 2015.. Dilihat dari komposisi berdasarkan usia, sebesar 25 persen penduduk Asia berusia di bawah usia 15 tahun dan sebesar 8 persen berusia 65 ke atas. Penduduk Asia berusia antara 15 sampai 65 tahun sebesar 67 persen. Ini berarti sebagian besar penduduk Asia tergolong usia produktif. Penduduk usia produktif adalah penduduk berusia antara 15 sampai 65 tahun (WPDS, 2015).

16. Berdasarkan wacana diatas, berilah tanda centang negara di benua Asia di bawah ini yang memiliki iklim tropis basah. Pilihlah 2 jawaban yang paling tepat!
- A. Jepang, Cina, Hongkong
 - B. Arab Saudi, Yaman, Yordania
 - C. Indonesia, Brunei Darusalam
 - D. Singapura, Malaysia
17. Berdasarkan wacana soal no.16 diatas, dinamika penduduk benua Asia pada tahun 2015 adalah sebagai berikut! Berilah tanda centang pada 2 jawaban yang paling tepat.
- A. yang berusia antara 15 sampai 65 tahun berjumlah 1.960.500.000 jiwa
 - B. jumlahnya bertambah sebesar 476 juta jiwa dalam kurun waktu 10 tahun
 - C. yang berusia di bawah usia 15 tahun berjumlah 3.921.250.000 jiwa
 - D. yang berusia 65 tahun ke atas berjumlah 588.150.000 jiwa

Teks untuk soal nomor 18 sampai dengan 20

PTMT Hari Pertama Jenjang SMP di Kabupaten Kediri

Dinas Pendidikan Kabupaten Kediri, mulai melaksanakan pembelajaran tatap muka terbatas jenjang SMP menyusul turunnya level PPKM di Kabupaten Kediri serta setelah adanya pelaksanaan vaksinasi bagi siswa jenjang SMP. Salah satu sekolah yang menjalankan PTMT adalah SMP Negeri 1 Ngasem dengan menjalankan protokol kesehatan secara ketat, dimulai dengan pengecekan suhu tubuh sebelum memasuki lingkungan sekolah, penyemprotan desinfektan, cuci tangan sebelum masuk kelas hingga pembagian kelas dengan jumlah siswa maksimal 50 persen serta pembatasan jam pelajaran maksimal 2 jam.



Andriyani, Waka Kurikulum atau akademik SMP Negeri 1 Ngasem mengatakan dalam PTMT ini masing - masing jenjang untuk pembelajaran dibatasi maksimal 2 jam dengan 2 mata pelajaran dan masing - masing jenjang masuk sebanyak 2 kali dalam seminggu sehingga siswa bisa mendapatkan 4 mata pelajaran.

“Siswa lebih suka dengan PTMT ini karena lebih memudahkan dalam mengikuti pembelajaran. PJJ sangat banyak kelemahan untuk anak terutama dalam memahami materi, selain itu pembelajaran daring banyak kendala yang dialami seperti gangguan jaringan, kuota internet serta sulitnya menerima materi,” ujar Andriyani, Waka Kurikulum atau akademik SMP Negeri 1 Ngasem.

Sementara itu Farida Meylani, siswa kelas 8 mengaku senang dengan adanya pembelajaran tatap muka ini, karena lebih mudah untuk menerima materi dari guru dan PTM ini sudah diinginkan sejak lama. Harapannya setelah adanya vaksin bagi pelajar SMP ini, PTMT bisa dilaksanakan terus sehingga tidak kesulitan untuk belajar.

“Semoga bisa dilaksanakan terus dan semuanya selesai di vaksin jadi bisa masuk semua,” harap Farida

Untuk diketahui, sebelumnya Pemerintah Kabupaten Kediri melalui Dinas Kesehatan telah melakukan serbuan vaksinasi bagi pelajar jenjang SMP untuk mendukung pembelajaran tatap muka, sementara vaksin yang disediakan sebanyak 40 ribu dosis.

Sumber : <https://berita.kedirikab.go.id/ptmt-hari-pertama-jenjang-smp-di-kabupaten-kediri>

18. Berdasarkan teks di atas, apa alasan Dinas Pendidikan Kabupaten Kediri mulai melaksanakan pembelajaran tatap muka terbatas (PTMT) untuk jenjang SMP?

- A. Pembelajaran daring banyak kendala yang dialami seperti gangguan jaringan, kuota internet serta sulitnya menerima materi
- B. Turunnya level PPKM di Kabupaten Kediri
- C. Siswa jenjang SMP telah divaksinasi
- D. Pemerintah Kabupaten Kediri melalui Dinas Kesehatan menyediakan vaksin sebanyak 40 ribu dosis.

19. Berdasarkan teks di atas, Apa harapan Farida Meylani dengan adanya PTMT tersebut!

- A. Agar lebih mudah untuk menerima materi dari guru
- B. Agar keinginan PTM yang sudah lama diinginkan terwujud
- C. Pembelajaran tatap muka bisa dilaksanakan terus
- D. Setelah semua divaksin bisa masuk 100 persen

20. Berdasarkan teks di atas, Protokol kesehatan apa saja yang harus dilakukan oleh peserta didik ketika melaksanakan PTMT di sekolah tersebut!

- A. Mengecek suhu tubuh sebelum memasuki lingkungan sekolah
- B. Menyemprotan desinfektan ke ruang kelas
- C. mencuci tangan sebelum masuk kelas
- D. Membagi kelas dengan jumlah siswa maksimal 50 persen

III. Pilihlah (B) untuk pernyataan yang benar atau (S) untuk pernyataan yang salah!

16. (B) - (S) Uluru merupakan salah satu objek unik berupa batu besar yang menjadi salah satu ikon Australia. Bagi suku Aborigin, Ulur merupakan tempat keramat. Lukisan Suku Aborigin dapat dijumpai pada gua di Uluru yang menceritakan bagaimana dunia terbentuk
17. (B) - (S) Terusan Suez diresmikan pada tahun 1869 dan dibangun atas prakarsa seorang insinyur Perancis bernama Ferdinand Vicomte de Lesseps. Terusan tersebut menghubungkan antara Laut Arab dengan Laut Merah.
18. (B) - (S) Benua Amerika dihuni oleh banyak etnik, salah satunya adalah etnik kulit hitam atau negro. Keberadaan etnik tersebut tidak lepas dari praktek perbudakan. Mereka didatangkan dari Afrika sebagai budak. Selama 360 tahun, antara tahun 1500 sampai 1860 an sebanyak 12 juta penduduk Afrika dipindahkan secara paksa ke Amerika untuk menjadi budak atau pekerja. Sebagian besar dibawa ke Amerika Selatan
19. (B) - (S) Eropa merupakan wilayah tujuan migrasi penduduk dari berbagai negara, khususnya negara-negara di Afrika Utara dan Timur Tengah yang sedang berkonflik. Daerah konflik seperti Syria, Irak, Mesir dan beberapa negara lainnya menjadi penyumbang utama migran ke Eropa.
20. (B) - (S) Afrika memiliki angka kelahiran yang tinggi seperti halnya juga Asia Selatan. Banyak hal menjadi penyebabnya yaitu fasilitas kesehatan yang sudah maju, tingkat kesejahteraan penduduk yang tinggi dan rendahnya pendidikan perempuan,
21. (B) - (S) Terdapat beberapa produk pakaian dan sepatu yang dirancang serta diproduksi oleh orang Indonesia. bahkan sebagian dari produk-produk tersebut mengambil aksen tradisional daerah untuk menarik perhatian pembeli. Contoh tersebut merupakan bagian dari upaya menghadapi globalisasi di ekonomi dan budaya.
22. (B) - (S) Penggunaan teknologi pembelajaran daring untuk mengurangi penggunaan kertas untuk ujian merupakan contoh perubahan akibat kebutuhan bersaing dengan negara lain.
23. (B) - (S) Pembangunan rumah susun di perkotaan untuk mengatasi lahan kosong yang semakin sedikit merupakan contoh dari perubahan yang diakibatkan Pertambahan Populasi
24. (B) - (S) Ciri yang menandai globalisasi di bidang ekonomi adalah membuka peluang bagi masuknya pasar global ke pasar domestik
25. (B) - (S) Pandemi covid-19 merupakan salah satu faktor ekstern yang mendorong terjadinya perubahan sosial budaya yang bersifat revolusi, direncanakan dan memiliki pengaruh yang luas.

IV. Pasangkan pernyataan pada lajur kiri dengan alternatif jawaban pada lajur kanan

31. Australia merupakan negara yang amat luas, tetapi tidak banyak daerah yang cocok untuk daerah hunian. Daerah-daerah yang paling sesuai untuk hunian adalah daerah ...	(.....)	A. Amerika
32. Asia merupakan benua terluas di dunia, Karena luasnya wilayah ini secara geografis membawa pengaruh yang berbeda terhadap iklim. Hal ini menyebabkan persebaran penduduk tidak merata. Daratan yg jauh dari laut adalah yang paling sedikit penduduknya, yang memiliki iklim...	(.....)	B. Eropa C. pantai
33. Celana jeans, sepatu, baseball, topi cowboy, sepatu boots, makanan hamburger, hotdog, keripik kentang, dan makaroni merupakan budaya negara ...	(.....)	D. dinamis E. kontinental
34. Suku bunga Nordik, Alpen, Mediteran adalah suku bangsa yang tersebar dan mendiami kawasan	(.....)	F. Afrika
35. Jumlah bahasa yang digunakan di benua ini mencapai 1.500-2.000 bahasa, yang dikelompokkan menjadi 4 yaitu; Afro-Asiatika, Nilo-Saharan, Congo-Saharan, Khoisan. Benua yang dimaksud adalah....	(.....)	G. pegunungan
36. Suatu perubahan sosial budaya yang terjadi dalam masyarakat menunjukkan sifat masyarakat yang selalu ...	(.....)	H. Asia I. statis
37. Banyak negara berkembang mengirim pelajar dan mahasiswa ke negara-negara maju dengan tujuan untuk meningkatkan kualitas sumber daya manusia di negara-negara berkembang. Hal ini merupakan pengaruh perubahan dan interaksi antar ruang antar negara terhadap ...	(.....)	J. pendidikan K. asimilasi
38. Proses bertemunya kebudayaan asli dengan kebudayaan asing yang lambat laun unsur kebudayaan asing tersebut melebur atau menyatu ke dalam kebudayaan asli, tetapi tidak menghilangkan ciri dari kebudayaan lama disebut ...	(.....)	L. westernisasi M. budaya
39. Peniruan gaya hidup ke barat baratan, lebih mengarah pada sikap dan perilaku, karena menganggap gaya hidup barat lebih tinggi dan bergengsi daripada budaya lokal sebelumnya disebut ...	(.....)	N. modernisasi O. akulturasi
40. Berpegang teguh pada nilai religius, spiritual, dan memupuk rasa kebhinekaan agar Indonesia tetap berjaya dengan budayanya merupakan upaya menghadapi globalisasi di bidang ...	(.....)	

V. Jawablah pertanyaan berikut dengan benar!

41. Secara astronomis Jepang berada pada 30°LU – 47°LU dan 128°BT – 146°BT . Dilihat letak lintangnya Jepang memiliki iklim subtropis dan sedang. Peredaran matahari semu pada bulan Juni berada di belahan bumi utara, pada saat itu Jepang sedang mengalami musim....
42. Beberapa jenis fauna seperti bison, antelop, dan beruang di kawasan Midwest; domba dan rusa di kawasan pegunungan; puma di pesisir pasifik; armadilo, selot, dan jaguar di kawasan barat daya; opossum, aligator, buaya kardinal di kawasan selatan; dan karibu, beruang kutub, anjing laut, serta paus di kawasan Alaska. Persebaran fauna tersebut berada di benua
43. Negara ini berupa kepulauan di barat benua Eropa. Diapit samudera Atlantik di sebelah barat, laut utara di sebelah timur. Berdasarkan reliefnya, wilayah Negara ini terbagi menjadi dua bagian, yaitu wilayah yang bergunung-gunung (Scotlandia) di bagian utara dan dataran rendah yang bergelombang di timur dan selatan. Negara ini adalah....
44. Saat olimpiade 2020 Tokyo saya melihat siaran pertandingan final bulutangkis ganda putri antara Indonesia dengan China di Televisi. Acara tersebut berlangsung di Tokyo, tetapi saya tidak perlu ke sana untuk menonton. Masih banyak hal-hal yang terjadi di luar negeri dapat secara langsung kita ikuti dari Negara kita, sehingga seolah-olah negara lain menjadi sangat dekat dengan kita. Hal ini merupakan suatu contoh proses mendunia yang disebut
45. Salah satu faktor penyebab kenakalan remaja yaitu pola hidup yang memperlihatkan penampilan yang tidak sesuai dengan keadaan yang sebenarnya demi memperoleh gengsi atau prestise yang disebut ...

Selamat Mengerjakan Semoga Sukses